

# 社 会

時間 45分

(12時25分～13時10分)

## 注 意

- 1 問題用紙は「始めなさい」という合図があるまで開いてはいけません。
- 2 問題用紙は表紙を入れて10ページあり、これとは別に解答用紙が1枚あります。
- 3 受検番号は、検査開始後、解答用紙の決められた欄に記入しなさい。
- 4 机の上に置けるものは、受検票・鉛筆（シャープペンシルも可）・消しゴム・鉛筆削りです。
- 5 筆記用具の貸し借りはいけません。
- 6 問題を読むとき、声を出してはいけません。
- 7 印刷がはっきりしなくて読めないときや、筆記用具を落としたときなどは、だまって手をあげなさい。
- 8 「やめなさい」という合図ですぐに書くのをやめ、筆記用具を置きなさい。

## 答えの書き方

- 1 答えは、問題の指示に従って、すべて解答用紙に記入しなさい。
- 2 答えはていねいに書きなさい。答えを書き直すときは、きれいに消してから書きなさい。

1

以下の地図を見て、(1)～(6)に答えなさい。なお、地図の中心Hは東京である。(14点)



"どこでも方位図法" by (株)オンターゲット / 当画像はCC BY-SA 4.0ライセンスで提供されています

(1) 地図に関する以下の説明文の空欄1、2にあてはまる語句をそれぞれ答えなさい。

この地図は地図の中心から  と  が正確だが、面積や陸地の形が大きく歪んでいる。

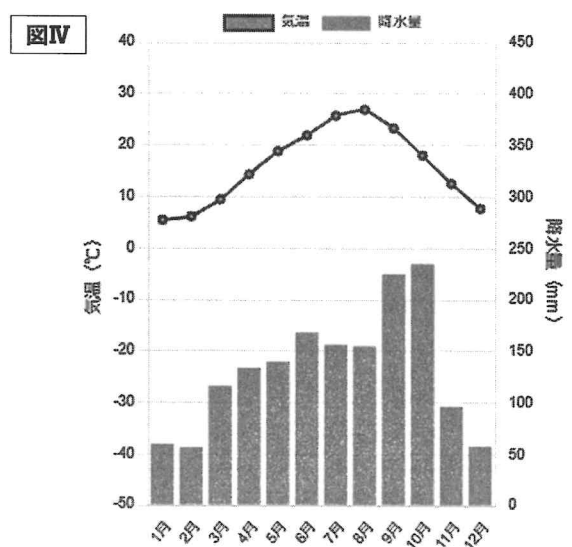
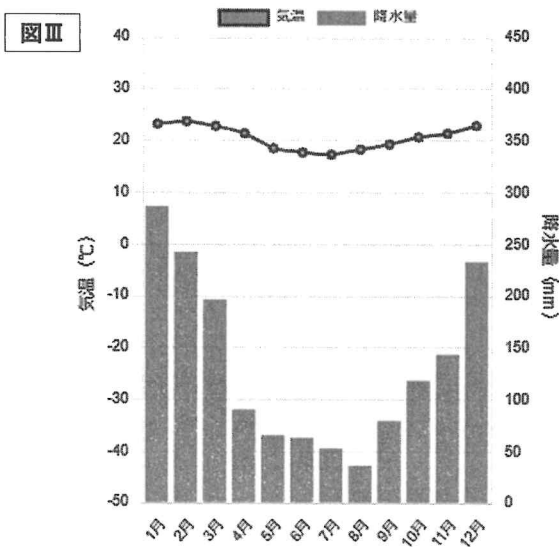
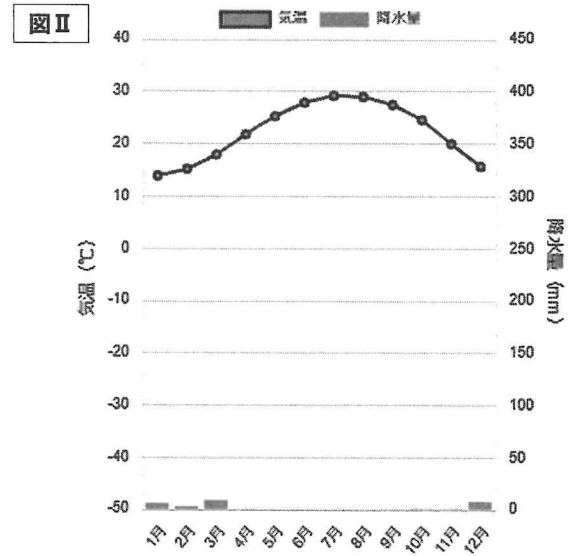
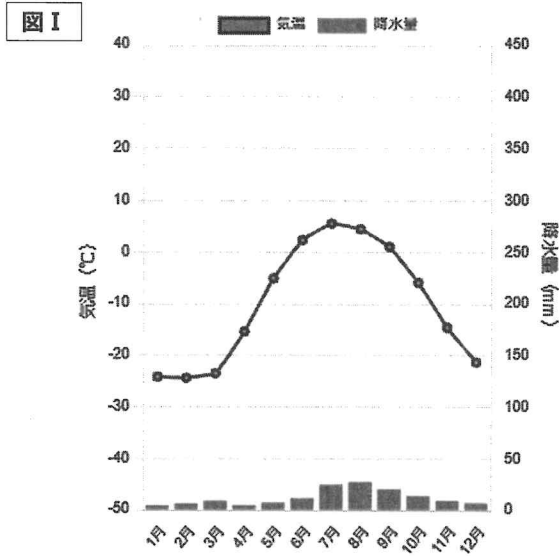
(2) 地図の中心Hから見たとき、地点Aと地点Bのどちらが近いかなさい。

(3) 地点C～Fのうち、イギリスはどこかなさい。

社-2

(4) 大陸あ~うのうち、アフリカ大陸はどれか答えなさい。

(5) 雨温図Ⅰ~Ⅳについて、地図中の地点 B, G, H, I と正しく組み合わせたものを選択肢から選び、記号で答えなさい。



- |        |      |       |      |        |      |       |      |
|--------|------|-------|------|--------|------|-------|------|
| ア. I-B | II-G | III-H | IV-I | イ. I-G | II-B | III-I | IV-H |
| ウ. I-B | II-G | III-I | IV-H | エ. I-G | II-B | III-H | IV-I |

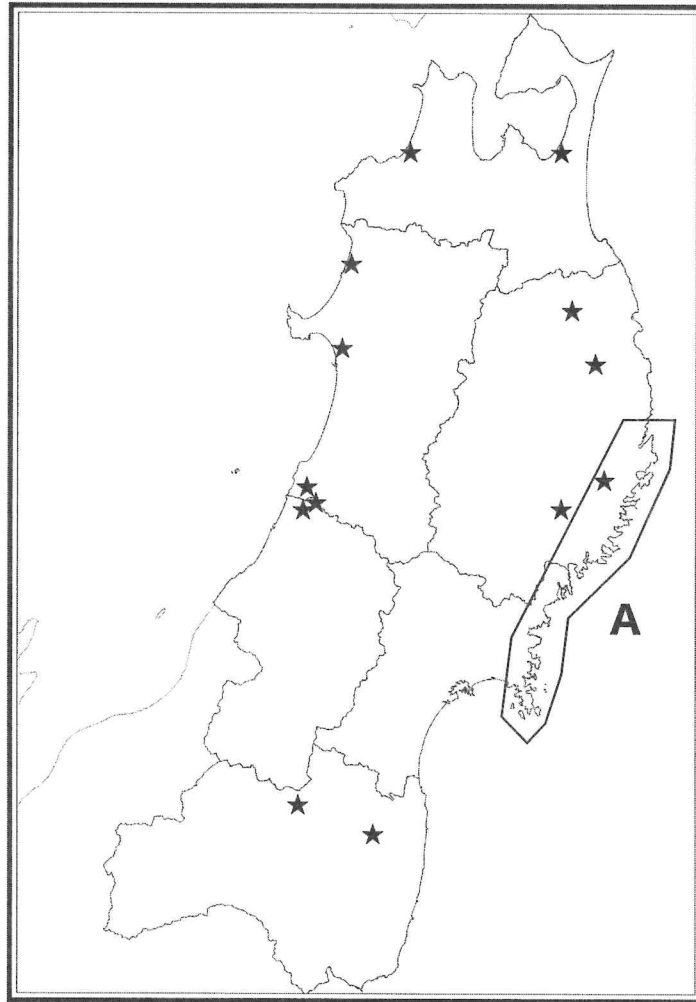
(6) 地点 H, J, K, L のうち、図Ⅴはどこか答えなさい。

図Ⅴ



※出典：<https://maps.ontarget.cc/azmap/>  
<https://www.photo-ac.com> より

**2** 以下の地図を見て、(1)～(5)に答えなさい。(14点)



- (1) 海岸Aについて、このような海岸をなんというか答えなさい。
- (2) 以下の表は、平成14年～平成19年の東北各県の米の収量示したものである。平成15年度の収穫量について述べた文章の、空欄にあてはまる語句の組み合わせを語群から選び、記号で答えなさい。

東北各県の水稲の年次別収量 (単位 t)						
	平成14年	平成15年	平成16年	平成17年	平成18年	平成19年
青森	298,800	160,500	315,200	322,800	309,700	299,100
秋田	516,700	479,100	456,300	544,000	540,100	549,500
岩手	317,300	226,800	328,000	326,000	312,000	309,500
山形	423,000	378,000	396,600	429,500	419,000	419,500
宮城	427,200	281,100	447,500	423,700	399,300	408,000
福島	441,100	377,700	455,700	449,100	433,700	445,200

平成15年度は、側の県の米の収量が大きく減じている。  
 原因として、夏に吹く北東からの冷風であるが吹いたことが考えられる。

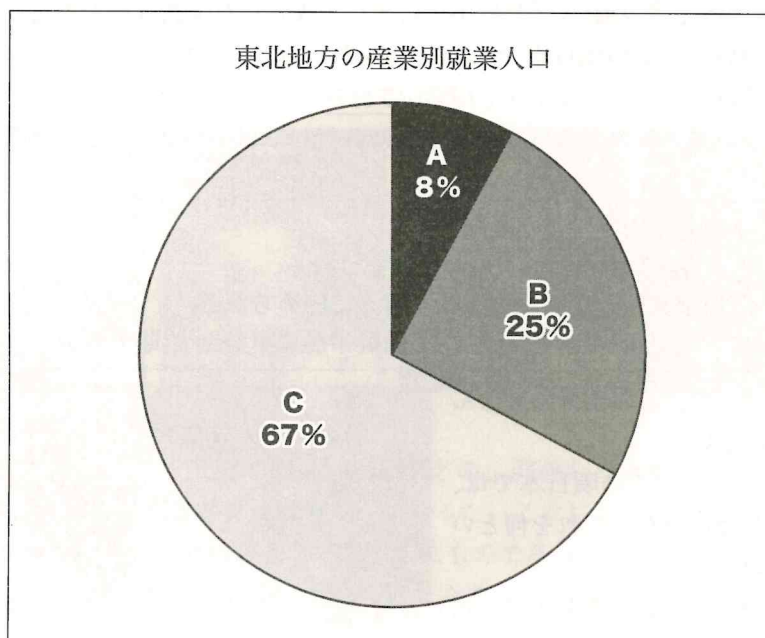
- ア. 1－太平洋 2－やませ      イ. 1－日本海 2－やませ  
 ウ. 1－太平洋 2－からっ風      エ. 1－日本海 2－からっ風

(3) 以下の表は、東北各県の果樹収量を示したものである。B, D, F にあてはまる県名を答えなさい。

各果樹の収穫量 (令和2年) (単位 t)				
	りんご	おうとう (さくらんぼ)	もも	西洋梨
A	2,680	22	230	110
B	21,100	365	22,800	572
C	25,200	366	1,310	720
D	41,500	13,000	8,510	19,100
E	47,200	54	972	809
F	463,000	682	1,530	1,720

(4) 地図中の★は、ある再生可能エネルギーの発電所の分布である。この再生可能エネルギーは何か答えなさい。

(5) グラフは、東北地方の産業別就業人口の割合を示したものである。A~C にあてはまる産業の組み合わせを語群から選び、記号で答えなさい。



- |              |              |              |           |           |           |           |           |           |
|--------------|--------------|--------------|-----------|-----------|-----------|-----------|-----------|-----------|
| ア. A - 第三次産業 | イ. A - 第一次産業 | ウ. A - 第二次産業 | B - 第一次産業 | B - 第二次産業 | B - 第三次産業 | C - 第二次産業 | C - 第三次産業 | C - 第一次産業 |
|--------------|--------------|--------------|-----------|-----------|-----------|-----------|-----------|-----------|

3

ある授業でユダヤ人の歴史について調べ、以下のようにまとめた。(1)～(7)に答えなさい。

(16点)

他民族からは「ヘブライ人」と呼ばれ、自らを「イスラエル人」と呼ぶ彼らは、前1500年ころからシリア・パレスチナ地方で活動し始めた。エジプトや新バビロニアに支配される苦難の中で、前6世紀頃には「ユダヤ人」としての自覚を持つようになった。古代ローマ帝国の支配下で1世紀頃までは信仰を認められた①ユダヤ人であったが、ローマ支配に抵抗する中でパレスチナから追い出され、ローマ帝国領内の地中海各地やメソポタミア地方に離散(ディアスポラ)した。②ローマ帝国内でキリスト教が認められ国教化していく中、ユダヤ教は異教として否定されるようになった。一方、東欧やイスラーム圏ではその立場を保証されることも多く、6～10世紀にかけて存在したトルコ系の遊牧国家ハザール＝カガン国③では、国教化するといった事態も起こった。


中世ヨーロッパでは手工業者や商人として活動し、村々や都市に居住していたユダヤ人であったが、イスラーム支配下にあった聖地エルサレムをキリスト教徒が奪還する出来事④の中で、異教徒として激しい迫害を受けるようになった。13～14世紀にはキリスト教徒によって集団的な虐殺(ポグロム)が行なわれた。⑤また、中世から近世にかけてイギリスやフランス、スペインでは強制的な国外追放や居住地(ゲットー)への強制移住、キリスト教徒への強制改宗も行われた。

近代に入ると、市民革命の中で人権思想の発達や世俗主義化が進み、ユダヤ人は解放されていった。一方、ナショナリズムの進展によってヨーロッパの中にユダヤ人に対する差別感情が湧き起こり、これに反発する形でユダヤ人国家の建設を目指すシオニズム運動が起こった。ユダヤ人に対する迫害はナチスドイツによる絶滅政策⑥によってピークを迎え、絶滅政策に対する世界の同情を背景にイスラエル建国⑦が強行されたが、アラブ諸国との対立へと繋がり、現在も問題が続いている。

- (1) 下線部①について、この頃ユダヤ教から発展して成立した宗教は何か答えなさい。
- (2) 下線部②について、この頃日本では女王卑弥呼が30ほどの国々をまとめていたが、これを何と  
いうか答えなさい。
- (3) 下線部③について、この頃の日本の出来事にかかわる以下の文章を、古い順に並べ替え、記号で  
答えなさい。

ア. 小野妹子ら遣隋使が派遣される。  
 イ. 『宋書』倭国伝に倭王のことが記される。  
 ウ. 菅原道真が遣唐使派遣延期を訴えて認められる。  
 エ. 中大兄皇子が白村江の戦いで朝鮮半島に軍勢を派遣するが、敗れる。

- (4) 下線部④について、この出来事をなん  
というか答えなさい。
- (5) 下線部⑤について、この頃日本では、  
図Ⅰの出来事が起こった。これを何とい  
うか答えなさい。
- (6) 下線部⑥について、この時ドイツの指  
導者だった図Ⅱの名前を答えなさい。




- (7) 下線部⑦について、この頃世界は冷戦に突入していた。冷戦の構造に関する以下の表の空欄に  
あてはまる語句の組み合わせを語群から選び、記号で答えなさい。

	資本主義国	社会主義国
主要国	1	2
軍事同盟	3	4

ア. 1ーアメリカ合衆国 2ーソビエト連邦 3ーNATO 4ーワルシャワ条約機構  
 イ. 1ーアメリカ合衆国 2ーソビエト連邦 3ーワルシャワ条約機構 4ー NATO  
 ウ. 1ーソビエト連邦 2ーアメリカ合衆国 3ーNATO 4ーワルシャワ条約機構  
 エ. 1ーソビエト連邦 2ーアメリカ合衆国 3ーワルシャワ条約機構 4ーNATO

4

以下の各資料は、ある授業で使われたものである。(1)～(7)に答えなさい。(14点)



- (1) 図Ⅰは、紫式部が書いた作品の名場面を絵にしたものである。紫式部の作品を何というか答えなさい。
- (2) 図Ⅰの紫式部の作品が著された頃、藤原道長が天皇の代わりに政治を行うことで、朝廷の権力を握っていた。この政治を何というか答えなさい。
- (3) 図Ⅱに描かれた建物が建てられた頃の出来事にあてはまらないものを、以下の文章から選び、記号で答えなさい。

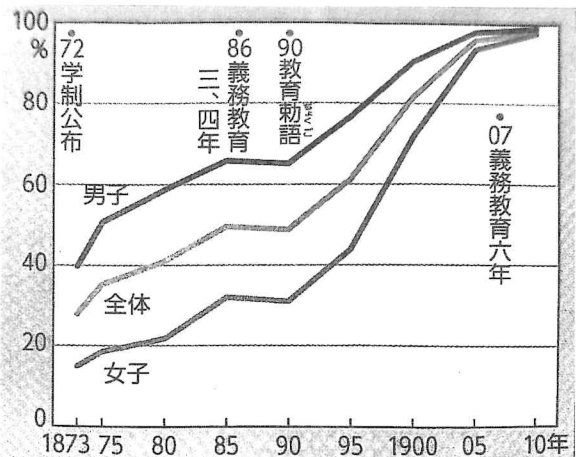
- ア. 将軍の補佐役として、執権が置かれた。  
 イ. 運送業の馬借や、問と呼ばれる倉庫業者が活動した。  
 ウ. 明からの要請によって倭寇の取り締まりが行われ、日明貿易が栄えた。  
 エ. 足利義満が金閣を築く。

- (4) 図Ⅱは16世紀頃に描かれた。同じ頃に制作されていない作品を以下の中から選び、記号で答えなさい。



- (5) 図Ⅲの作者を答えなさい。
- (6) 図Ⅲが制作された頃、三井・三菱・安田・住友などの、関連した多数の子会社を抱える企業が台頭し、日本の経済に大きな影響力を及ぼすようになった。こうした会社を何というか答えなさい。
- (7) グラフAは、図Ⅲが制作された頃の就学率を示したものである。このグラフについて正しく説明しているものを以下の文章の中から選び、記号で答えなさい。

- ア. 女子の就学率は常に上昇し続けている。  
 イ. 学制公布段階で、男子の就学率は全体の半分以上だった。  
 ウ. 義務教育が三、四年となったことで、就学率は急上昇した。  
 エ. 1910年には、全体の就学率は90%を超えていた。

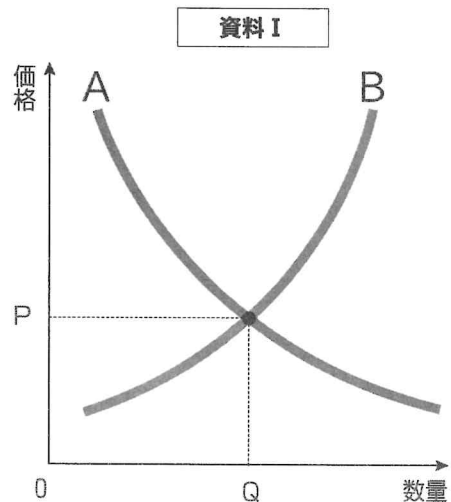


グラフA

※出典：https://ja.wikipedia.org/  
 矢ヶ崎典隆、坂上康俊、谷口将紀他 (2023年) 『新しい社会 歴史』 東京書籍 より

**5** 以下の資料を見て、(1)～(4)に答えなさい。  
(16点)

(1) 資料 I は、自由な競争が行われている場合の、ある商品の需要と供給の関係を表している。A は需要曲線で、B は供給曲線である。以下の問いに答えなさい。



- ① 図中の P で示される価格を何と回答なさい。
- ② 生産者が新しい性能の良い生産設備を取り入れ、今までよりもこの製品を大量に生産できるようになったとする。そのとき、図はどのように変化するか。正しいものを以下の文章から 1 つ選び、記号で答えなさい。

<b>ア.</b> 線 A が左に移動する。	<b>イ.</b> 線 A が右に移動する。
<b>ウ.</b> 線 B が左に移動する。	<b>エ.</b> 線 B が右に移動する。

③ 物価が上昇し、貨幣価値が下がる状態を何と回答なさい。カタカナで回答なさい。

(2) 政府の財政政策について述べた次の文の空欄 1、2 にあてはまる文の組み合わせとして正しいものを、以下の文章から 1 つ選び、記号で回答なさい。

通常、不景気のときには、景気の回復をうながすために、  
政府は  を行い、企業や家計の  。

<b>ア.</b> 1—減税    2—消費を増やそうとする	<b>イ.</b> 1—減税    2—消費を減らそうとする
<b>ウ.</b> 1—増税    2—消費を増やそうとする	<b>エ.</b> 1—増税    2—消費を減らそうとする

(3) 社会保障制度について、以下の問いに回答なさい。

- ① 日本の社会保障制度の四つの柱のうち、「公害対策や感染症の予防などにより、人々が健康で安全な生活を送ることができるようにする」ことを何と回答なさい。
- ② 介護保険に加入することになっているのは、原則として何歳以上の人々か。以下の選択肢から 1 つ選び、記号で回答なさい。

<b>ア.</b> 50 歳以上	<b>イ.</b> 40 歳以上	<b>ウ.</b> 30 歳以上	<b>エ.</b> 20 歳以上
------------------	------------------	------------------	------------------

(4) 以下の文章を読み、空欄 α、β にあてはまる語句を漢字で正しく回答なさい。

立法と行政の関係には大きく分けて大統領制と  の 2 つがあり、日本は  であり、内閣は国会に対して責任を負う。衆議院で内閣不信任の決議が可決された場合、内閣は衆議院の解散か、 しなければならない。



**6****(1)～(5)**に答えなさい。(12点)**(1)** 天皇の国事行為について述べたものを、以下の文章からすべて選び、記号で答えなさい。

- ア. 内閣総理大臣を任命する。
- イ. 最高裁判所長官を指名する。
- ウ. 弾劾裁判所を設置する。
- エ. 条約を公布する。
- オ. 国務大臣を指名する。

**(2)** 社会権にあてはまるものを、以下の文章からすべて選び、記号で答えなさい。

- ア. 信仰する宗教を自分で選ぶこと
- イ. お金や土地などの財産を持つこと
- ウ. 令状がなければ逮捕されないこと
- エ. 健康で文化的な生活を営むこと
- オ. 労働組合をつくること

**(3)** 国際連合では、紛争後の平和の実現のために、停戦や選挙の監視を行う活動が行われている。この活動の略称を、以下の選択肢から選び、記号で答えなさい。

ア. WHO

イ. IMF

ウ. PKO

エ. NGO

**(4)** 以下の文章の空欄1～3にあてはまる語句を答えなさい。

国家の金融の中心となり、通貨の量を調整し、金融政策を実施する銀行を中央銀行という。日本の中央銀行は日本銀行である。日本銀行の機能は3つある。第一に、日本で紙幣を発行できる唯一の銀行（銀行）であるという事。第二に、の銀行として、銀行などの金融機関に対して資金を貸したり預かったりしている事。第三に、の銀行として、の財政資金の出し入れなどを行う事である。

**(5)** 以下の写真の人物は、現在、我が国の首相である。氏名を漢字で答えなさい。

**7** 以下の文章は、ある授業でサミットについて調べ、まとめたものである。(1)～(6)に答えなさい。(14点)

主要国首脳会議とは、日本、アメリカ、イギリス、ドイツ、フランス、イタリア、カナダ、そして欧州連合を含む7カ国を中心に、国際的な政治・経済問題について毎年話し合われる会議のことである。グループの頭文字をとって「**1**」と言われてたり、各国の首脳を山頂に例えて「サミット」と呼ばれたりすることも多い。この会議は、第一次石油危機をきっかけに西側の資本主義国が中心となって行われていたが、ソ連が崩壊した1990年代以降は、ロシアを含む世界の主要国が参加するようになった。近年では2014年にロシアの参加資格が停止されたり、新興国のリーダーも会合に参加したりするようになった。

サミットは、ほぼ毎年開かれており、日本でも東京をはじめ、今までに数回開催されている。2000年には米軍基地問題でも課題を抱えている沖縄県<sup>①</sup>で開かれ、国際的にも平和問題が注目された。また、2008年、北海道の洞爺湖で開かれ、2023年には被爆した土地である**2**にてロシアの侵攻<sup>②</sup>や政治的問題について話し合われた。

サミットで取り扱われない問題でも解決すべき問題は多くあり、日本にも諸国との間に解決しなければならない問題が数多くある。領土問題<sup>③</sup>などはその一例である。また、宗教・民族的対立が原因の紛争は世界各地で起こっており<sup>④</sup>、紛争を解決するためには一層の外交努力が必要である。また、エネルギー問題、環境問題、持続可能な開発目標の達成など、これから考えていくべき重要な国際的問題は後を絶たない。

(1) 空欄1にあてはまる語句を答えなさい。

(2) 空欄2にあてはまる語句を答えなさい。

(3) 下線部<sup>①</sup>について、沖縄県の説明として誤っているものを以下の文章から選び、記号で答えなさい。

- ア. こんぶやゴーヤなどを使った郷土料理が作られている。
- イ. 台風が強いため、家屋をコンクリート造りにするなど工夫が見られる。
- ウ. さとうきび栽培などとともに、稲作も盛んである。
- エ. 亜熱帯の植物が茂り、周囲の海にはサンゴ礁が広がっている。

(4) 下線部<sup>②</sup>について、1945年8月8日、日ソ中立条約を破ってソ連は満州や千島列島へ侵攻したが、この侵攻をアメリカやイギリスと約束した会談を答えなさい。また、2022年にロシアが侵攻を始めた相手国名を答えなさい。

(5) 下線部<sup>③</sup>について、日本とロシアとの間に北方領土問題がある。北方領土として正しいものを以下の選択肢から1つ選び、記号で答えなさい。

- ア. 樺太
- イ. 沖ノ鳥島
- ウ. 竹島
- エ. 国後島

(6) 下線部<sup>④</sup>について、政治的な弾圧や戦争などにより、自国を離れた人々のことを何とというか答えなさい。





受 検 番 号

令和6年度 柴田学園大学附属柴田学園高等学校入学者選抜学力検査

# 社 会 解 答 用 紙

1	(1)	1		2		(2)	
	(3)			(4)			(5)
	(6)						

2	(1)			(2)				
	(3)	B			D			F
	(4)			(5)				

3	(1)			(2)			
	(3)	→		→	→		(4)
	(5)			(6)			(7)

4	(1)			(2)			(3)
	(4)			(5)			(6)
	(7)						

5	(1)	①			②			③
	(2)							
	(3)	①			②			
	(4)	$\alpha$			$\beta$			

6	(1)			(2)			(3)	
	(4)	1			2			3
	(5)							

7	(1)			(2)			(3)
	(4)	会談			相手国		
	(5)			(6)			